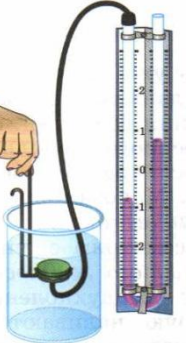

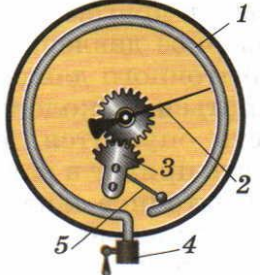

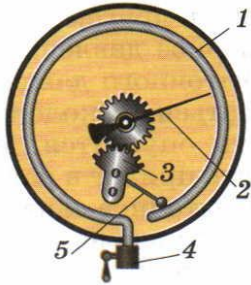
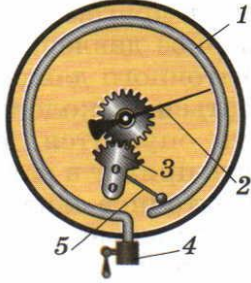
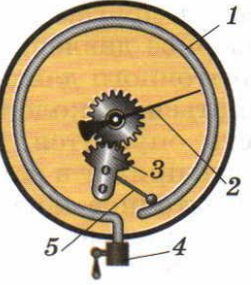


Тест по физике для 7 класса

Тема: Манометры (к §47)

<p>№1</p> <p>a</p> <p>b</p> <p>c</p> <p>d</p>	<p><b>Измерительный элемент жидкостного манометра опустили в воду. По каким данным можно судить о давлении на глубине?</b></p> <p>a. По высоте левого столбика</p> <p>b. По высоте правого столбика</p> <p>c. По разности высот столбиков</p> <p>d. Для верного ответа недостаточно исходных данных</p>	
<p>№2</p> <p>a</p> <p>b</p> <p>c</p> <p>d</p>	<p><b>Основной частью металлического манометра является ...</b></p> <p>a. Закрытая с одной стороны металлическая трубка</p> <p>b. Стрелка</p> <p>c. Шкала</p> <p>d. Зубчатый механизм</p>	
<p>№3</p> <p>a</p> <p>b</p> <p>c</p> <p>d</p>	<p><b>Что можно сказать о давлении воздуха в левом колене манометра?</b></p> <p>a. Оно больше атмосферного</p> <p>b. Оно меньше атмосферного</p> <p>c. Оно равно атмосферному</p> <p>d. Для верного ответа недостаточно исходных данных</p>	
<p>№4</p> <p>a</p> <p>b</p> <p>c</p> <p>d</p>	<p><b>Каким номером на рисунке обозначен зубчатый механизм?</b></p> <p>a. №1</p> <p>b. №2</p> <p>c. №3</p> <p>d. №5</p>	
<p>№5</p> <p>a</p> <p>b</p> <p>c</p> <p>d</p>	<p><b>Для измерения давлений, значения которых больше или меньше атмосферного, используют ...</b></p> <p>a. Тахометры</p> <p>b. Манометры</p> <p>c. Термометры</p> <p>d. Барометры</p>	
<p>№6</p> <p>a</p> <p>b</p> <p>c</p> <p>d</p>	<p><b>Какой прибор изображён на рисунке?</b></p> <p>a. Жидкостный манометр</p> <p>b. Металлический манометр</p> <p>c. Анероид</p> <p>d. Ртутный барометр</p>	
<p>№7</p> <p>a</p> <p>b</p> <p>c</p> <p>d</p>	<p><b>Как с греческого переводится слово МАНОС?</b></p> <p>a. Редкий</p> <p>b. Частый</p> <p>c. Воздушный</p> <p>d. Жидкий</p>	

№8	<b>Каким номером на рисунке обозначена закрытая с одной стороны металлическая трубка?</b>	
a	a. №1	
b	b. №2	
c	c. №3	
d	d. №5	
№9	<b>Каким прибором измеряют атмосферное давление?</b>	
a	a. Тахометром	
b	b. Манометром	
c	c. Термометром	
d	d. Барометром	
№10	<b>Каким номером на рисунке обозначена стрелка?</b>	
a	a. №1	
b	b. №2	
c	c. №3	
d	d. №5	
№11	<b>Каких типов манометры бывают?</b>	
a	a. Жидкостные	
b	b. Металлические	
c	c. Пружинные	
d	d. Инерционные	
№12	<b>Каким номером на рисунке обозначен рычаг?</b>	
a	a. №1	
b	b. №2	
c	c. №3	
d	d. №5	