
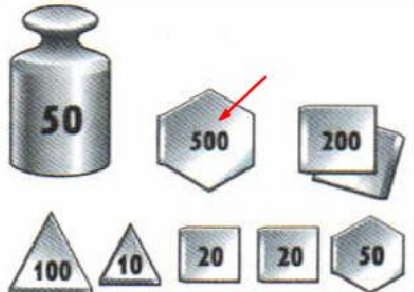

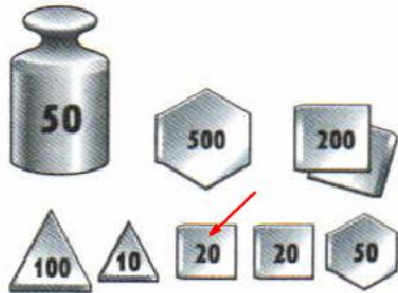
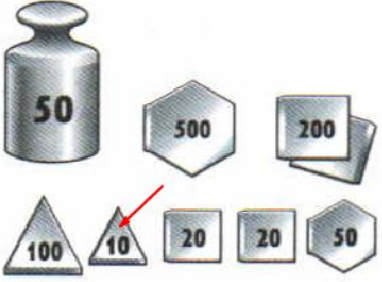
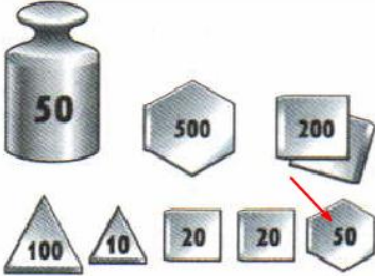

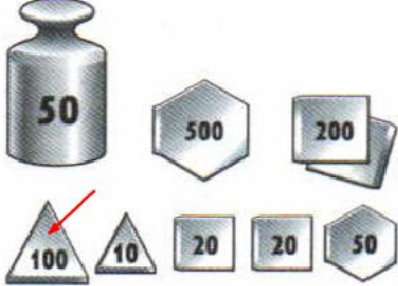

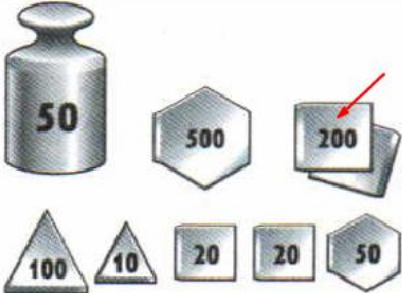


Тест по физике для 7 класса

Тема: Измерение массы тела на весах (к §21)

<p>№1</p> <p>a</p> <p>b</p> <p>c</p> <p>d</p>	<p><b>Что на рисунке обозначено цифрой 1?</b></p> <p>a. Коромысло</p> <p>b. Разновесы</p> <p>c. Чашки</p> <p>d. Стрелка-указатель</p>	
<p>№2</p> <p>a</p> <p>b</p> <p>c</p> <p>d</p>	<p><b>Какова масса гирьки, обозначенной стрелкой?</b></p> <p>a. 5 г</p> <p>b. 0,5 г</p> <p>c. 0,05 г</p> <p>d. 0,005 г</p>	
<p>№3</p> <p>a</p> <p>b</p> <p>c</p> <p>d</p>	<p><b>Что на рисунке обозначено цифрой 4?</b></p> <p>a. Коромысло</p> <p>b. Разновесы</p> <p>c. Чашки</p> <p>d. Стрелка-указатель</p>	
<p>№4</p> <p>a</p> <p>b</p> <p>c</p> <p>d</p>	<p><b>Какова масса гирьки, обозначенной стрелкой?</b></p> <p>a. 2 г</p> <p>b. 0,2 г</p> <p>c. 0,02 г</p> <p>d. 0,002 г</p>	
<p>№5</p> <p>a</p> <p>b</p> <p>c</p> <p>d</p>	<p><b>Какого типа весы используются в жизни?</b></p> <p>a. Учебные</p> <p>b. Медицинские</p> <p>c. Электронные</p> <p>d. Аптекарские</p>	
<p>№6</p> <p>a</p> <p>b</p> <p>c</p> <p>d</p>	<p><b>Какова масса гирьки, обозначенной стрелкой?</b></p> <p>a. 1 г</p> <p>b. 0,1 г</p> <p>c. 0,01 г</p> <p>d. 0,001 г</p>	
<p>№7</p> <p>a</p> <p>b</p> <p>c</p> <p>d</p>	<p><b>Какого типа весы показаны на рисунке?</b></p> <p>a. Медицинские</p> <p>b. Электронные</p> <p>c. Аптекарские</p> <p>d. Учебные</p>	

№8	<b>Какова масса гирьки, обозначенной стрелкой?</b>	
a	a. 5 г	
b	b. 0,5 г	
c	c. 0,05 г	
d	d. 0,005 г	
№9	<b>При помощи какого прибора на практике измеряют массу тела?</b>	
a	a. При помощи линейки	
b	b. При помощи секундомера	
c	c. При помощи весов	
d	d. При помощи мензурки	
№10	<b>Что на рисунке обозначено цифрами 2?</b>	
a	a. Коромысло	
b	b. Разновесы	
c	c. Чашки	
d	d. Стрелка-указатель	
№11	<b>Какова масса гирьки, обозначенной стрелкой?</b>	
a	a. 1 г	
b	b. 0,1 г	
c	c. 0,01 г	
d	d. 0,001 г	
№12	<b>Что на рисунке обозначено цифрой 3?</b>	
a	a. Коромысло	
b	b. Разновесы	
c	c. Чашки	
d	d. Стрелка-указатель	
№13	<b>Какова масса гирьки, обозначенной стрелкой?</b>	
a	a. 2 г	
b	b. 0,2 г	
c	c. 0,02 г	
d	d. 0,002 г	